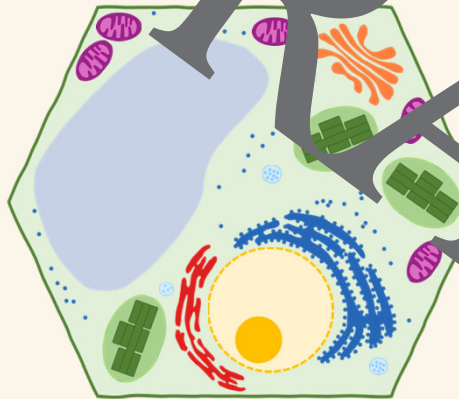




2

Zellen und Organellen
Diese Zelle ist eine ...



tierische Zelle

Pflanzenzelle



Super, das ist richtig!



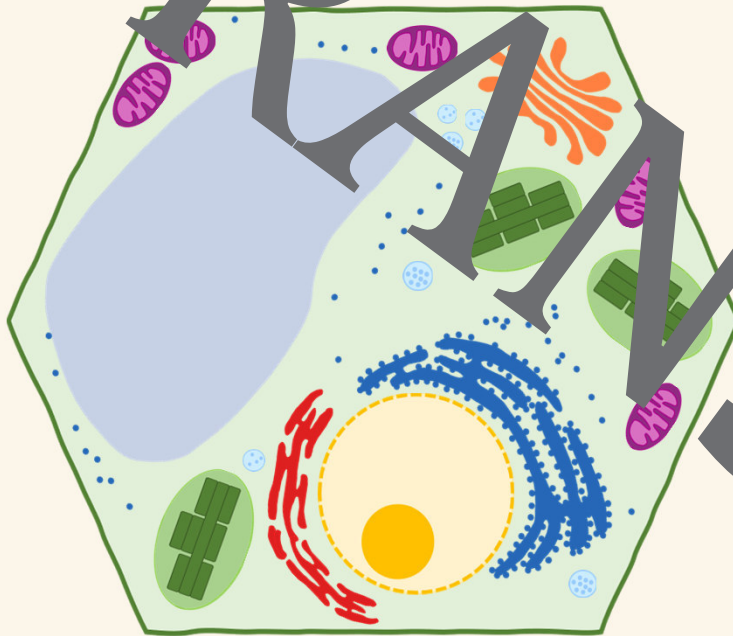
Das ist leider falsch, probiere es noch einmal

Weiter

2

Zellen und Organellen

Klicke auf den Ort der Photosynthese.



Super, das ist richtig!



Das ist leider falsch, probiere es noch einmal!

Weiter

4

Wahr oder Falsch?

Der Zellkern ist die Schaltzentrale („Chefetage“, „Kontroll- und Steuerungszentrum“) einer Zelle.

Wahr

Falsch



Super, das ist richtig!



Das ist leider falsch, probiere es noch einmal.

Weiter

9

Chloroplasten
Die 1 in der Grafik markiert ...

A

einen Chloroplasten

B

eine Zelle

C

ein Blattgrünkorn

D

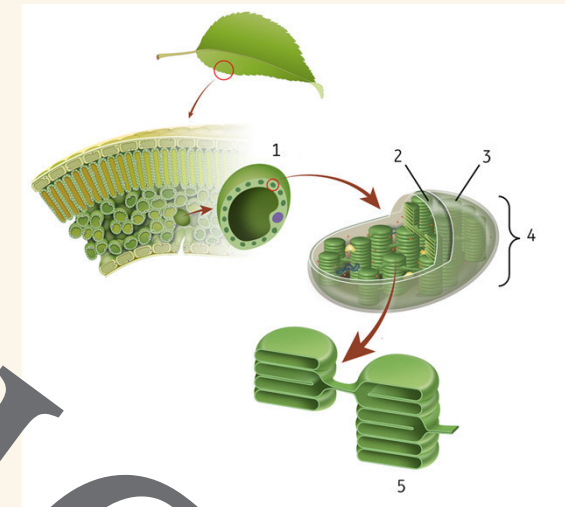
eine Blattzelle



Super, das ist richtig!



Das ist leider falsch, probiere es noch einmal



© Aldona/Stock/Getty Images Plus

Weiter

13

Welcher Fachbegriff wird gesucht?

Ein Abschnitt auf der DNA, der die Information für die Entwicklung und Ausprägung von Eigenschaften eines Lebewesens enthält.

Der Zellkern

Die DNA

Die Doppelhelix

Das Gen

Die Chromosomen



Super, das ist richtig!



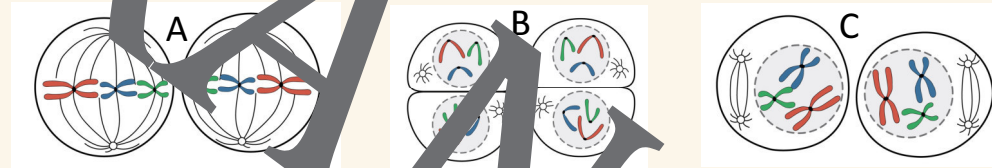
Das ist leider falsch, probiere es noch einmal.

Weiter

23

Meiose

Welche Abbildung bildet die Metaphase der zweiten Reifeteilung ab?



A

B

C



Super, das ist richtig!



Das ist leider falsch, probiere es noch einmal!

Weiter

20

itose

Das B in der Grafik markiert die ...

A

Anaphase

B

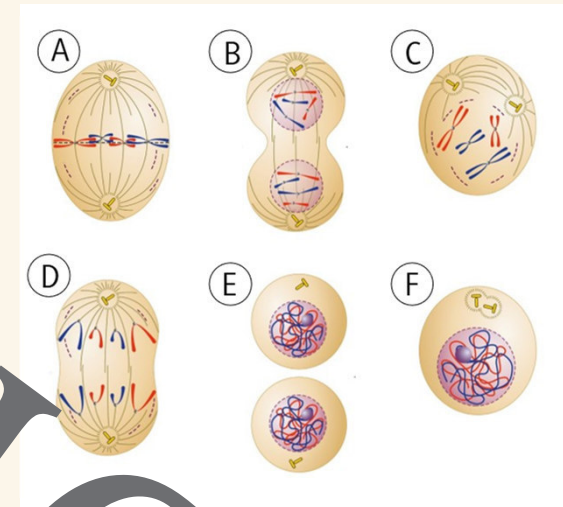
Zytokinese

C

Telophase

D

Metaphase



Super, das ist richtig!



Das ist leider falsch, probiere es noch einmal

Weiter

Sie wollen mehr für Ihr Fach?

Bekommen Sie: Ganz einfach zum Download im RAABE Webshop.



✓ **Über 5.000 Unterrichtseinheiten**
sofort zum Download verfügbar

✓ **Webinare und Videos**
für Ihre fachliche und
persönliche Weiterbildung

✓ **Attraktive Vergünstigungen**
für Referendar:innen
mit bis zu 15% Rabatt

✓ **Käuferschutz**
mit Trusted Shops



Jetzt entdecken:
www.raabe.de