

Auf einen Blick

Ab: Arbeitsblatt; Mb: Merkblatt

Planung für 5 Stunden

Einstieg

M 1 (Ab) Sinus und Kosinus in Dreiecken

Erarbeitung

M 2 (Ab) Sinus am Einheitskreis

M 3 (Ab) Kosinus am Einheitskreis

M 4 (Ab) Sinusfunktion

M 5 (Ab) Kosinusfunktion

Ergebnissicherung

M 6 (Mb) Sinus- und Kosinusfunktion

Übungen

M 7 (Ab) Vermischte Aufgaben zu Sinus und Kosinus

Test

M 8 (Mb) Sinus und Kosinus – Alles verstanden?

Lösung

Die Lösungen zu den Materialien finden Sie ab Seite 20.

Minimalplan

Die Zeit ist knapp? Dann planen Sie die Unterrichtseinheit für drei Stunden mit den folgenden Materialien:

M 1 (Ab) Sinus und Kosinus in Dreiecken

M 2 (Ab) Sinus am Einheitskreis

M 3 (Ab) Kosinus am Einheitskreis

M 4 (Ab) Sinusfunktion

M 7 (Ab) Vermischte Aufgaben zu Sinus und Kosinus: Aufgaben 1, 2, 3, 4a

Einstieg: Sinus und Kosinus in Dreiecken

M 1

1. Winkel zwischen 0° und 90°

WISSEN	
<p>Satz des Pythagoras: $a^2 + b^2 = c^2$</p> <p>Im rechtwinkligen Dreieck gilt:</p> $\sin(\alpha) = \frac{\text{Gegenkathete}}{\text{Hypotenuse}}$ $\cos(\alpha) = \frac{\text{Ankathete}}{\text{Hypotenuse}}$	



<https://raabe.click/ma-Trigonometrie-2>

Typische Aufgaben

Aufgabe 1

In einem rechtwinkligen Dreieck sind die Katheten $a = 4,5$ cm und $b = 3,6$ cm lang.

- Berechne die Länge der Hypotenuse c .
- Berechne die Winkel α und β .

Runde auf zwei Nachkommastellen.



Aufgabe 2

In einem rechtwinkligen Dreieck ist die Hypotenuse $c = 10$ cm lang. Der Winkel beträgt $\alpha = 30^\circ$.

- Berechne die Länge der Seite a .
- Berechne die Länge der Seite b .

Runde auf zwei Nachkommastellen.



Sinus- und Kosinuswerte für Winkel zwischen 0° und 90°

Aufgabe 3

a) Fülle die Tabelle aus. Runde auf zwei Nachkommastellen.

α	10°	30°	45°	60°	80°	90°
$\sin(\alpha)$						
$\cos(\alpha)$						



b) Beschreibe kurz, was dir an den Werten auffällt.

Grundlagen üben mit diesen LearningApps



<https://learningapps.org/watch?v=puds5gxoc22>

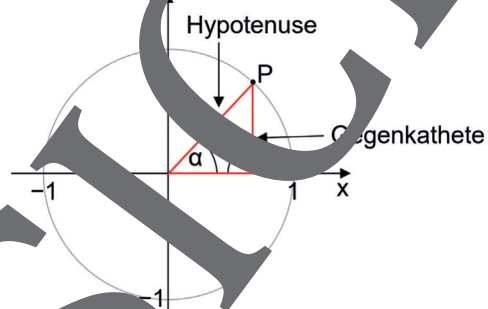
M 2 Erarbeitung I: Sinus am Einheitskreis

Ziel: Sinuswerte für beliebige Winkel

Über die Berechnung in allgemeinen Dreiecken konnten Sinus- und Kosinuswerte am Halbkreis, also von 0° bis 180°, berechnet werden. Diese Anschauung soll nun auf den Vollkreis, also 0° bis 360°, erweitert werden. Zur Vereinfachung werden alle Berechnungen am Einheitskreis gemacht. Der Einheitskreis ist ein Kreis mit Mittelpunkt im Ursprung des Koordinatensystems und mit Radius 1.

Du kennst bereits die Formel $\sin(\alpha) = \frac{\text{Gegenkathete}}{\text{Hypotenuse}}$.

Für das rechtwinklige Dreieck im Einheitskreis ergibt sich:



Löst die Aufgaben 1 bis 3 zu zweit.

Aufgabe 1

Fülle die Lücken.

Grafik: Diana Hauser

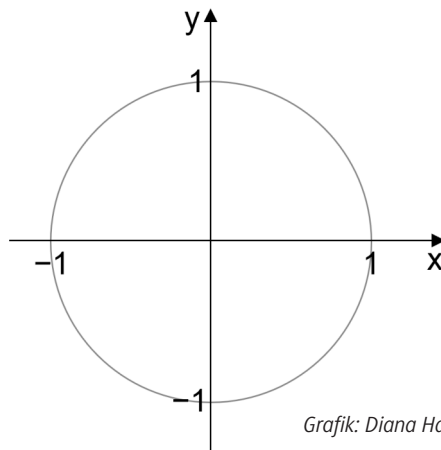
- a) Eine Ecke des rechtwinkligen Dreiecks liegt im _____, eine Ecke (P) liegt auf dem _____.
- b) Die Hypotenuse hat die Länge _____. Die _____-Seite entspricht der _____-Koordinate.
- c) Es gilt: $\sin(\alpha) = \frac{\text{Gegenkathete}}{\text{Hypotenuse}} = \frac{\square}{\square} \Rightarrow y = \square$

Im Einheitskreis gibt also die y-Koordinate des Punktes P den Sinuswert an. Nun lassen wir den Punkt P auf dem Einheitskreis wandern und betrachten das Vorzeichen des Sinuswerts.

Aufgabe 2

- a) Fülle die Vorzeichen-tabelle für den Sinuswert aus.
- b) Zeichne für jeden Quadranten ein passendes Beispiel im Einheitskreis.

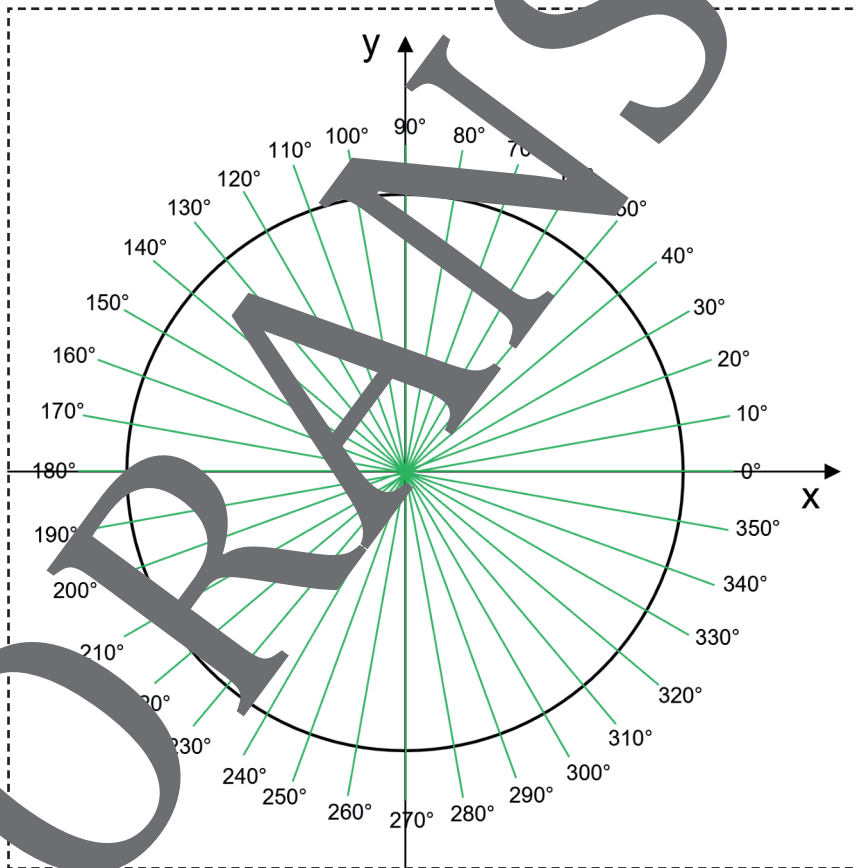
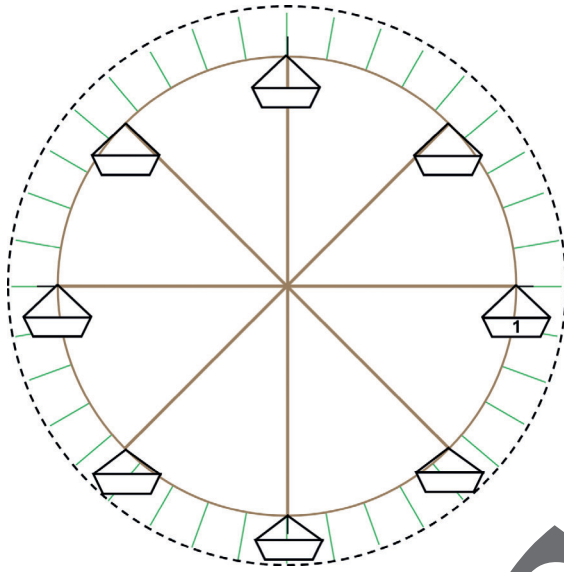
P im II. Quadranten Vorzeichen sin: _____	P im I. Quadranten Vorzeichen sin: _____
P im III. Quadranten Vorzeichen sin: _____	P im IV. Quadranten Vorzeichen sin: _____



Grafik: Diana Hauser

M 4b

Bastelvorlagen



Grafiken: Diana Hauser

VORANSICHT

M 6

Ergebnissicherung: Sinus- und Kosinusfunktion







<https://raabe.click/ma-Trigonometrie-3>

Sinus und Kosinus am Einheitskreis

Der Sinus ordnet jedem Winkel α die y-Koordinate des zugehörigen Punktes auf dem Einheitskreis zu.

Der Kosinus ordnet jedem Winkel α die x-Koordinate des zugehörigen Punktes auf dem Einheitskreis zu.

Wichtige Beziehungen:

$$\sin(\alpha) = \sin(180^\circ - \alpha) \quad \cos(\alpha) = -\cos(180^\circ - \alpha)$$

$$\sin(\alpha) = -\sin(360^\circ - \alpha) \quad \cos(\alpha) = \cos(360^\circ - \alpha)$$

$$\sin(\alpha) = -\sin(180^\circ + \alpha) \quad \cos(\alpha) = -\cos(180^\circ + \alpha)$$

$$\sin(\alpha) = \sin(360^\circ + \alpha) \quad \cos(\alpha) = \cos(360^\circ + \alpha)$$

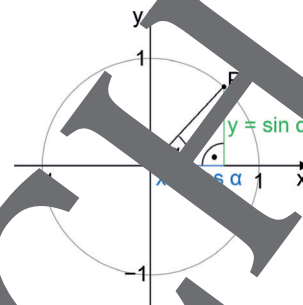
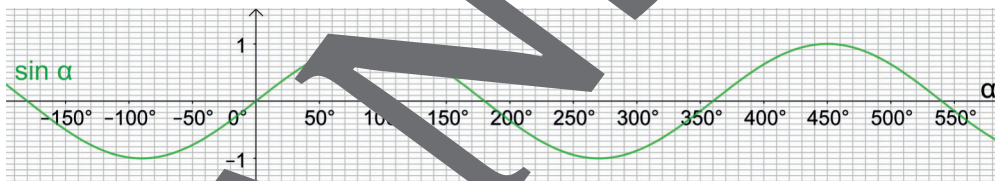


Bild: Diana Hauser

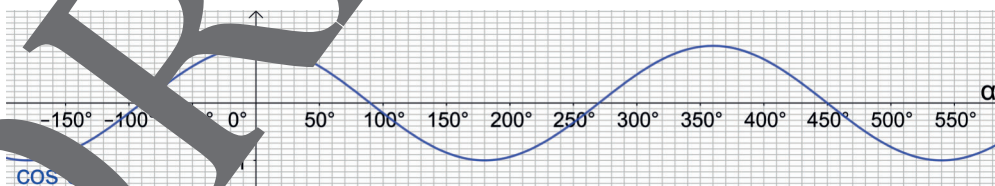
Sinusfunktion

Die Sinusfunktion ist eine periodische Funktion, die ihren Verlauf alle 360° wiederholt. Die Funktionswerte nehmen nur Werte im Bereich $[-1;1]$ an.



Kosinusfunktion

Die Kosinusfunktion ist eine periodische Funktion. Sie ist die um 90° nach links verschobene Sinusfunktion.



Man spricht bei den beiden Funktionen auch von Winkelfunktionen.

Übung: Vermischte Aufgaben zu Sinus und Kosinus

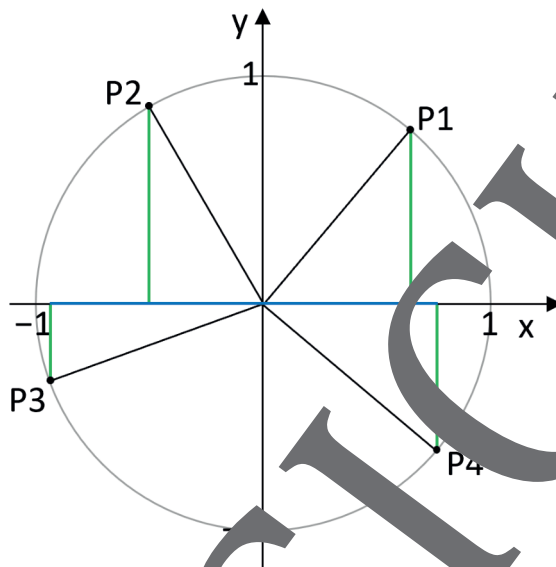
M 7

Aufgabe 1

Der Einheitskreis ist im Maßstab 3:1 gezeichnet.

- a) **Lies** die Werte für Sinus und Kosinus am Einheitskreis ab.
Runde dein Ergebnis auf 2 Nachkommastellen.

- $\sin(50^\circ) \approx$ _____
 $\cos(50^\circ) \approx$ _____
 $\sin(200^\circ) \approx$ _____
 $\cos(200^\circ) \approx$ _____
 $\sin(130^\circ) \approx$ _____
 $\cos(130^\circ) \approx$ _____
 $\sin(320^\circ) \approx$ _____
 $\cos(320^\circ) \approx$ _____



Grafik: Diana Hauser

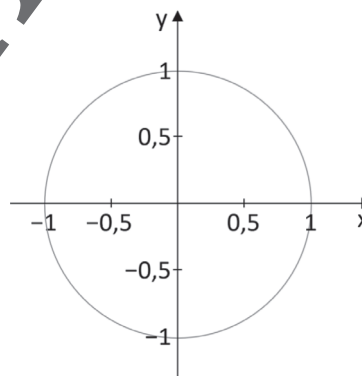
- b) **Rechne** mit dem Taschenrechner die exakten Werte aus. **Runde** auch die wieder auf 2 Nachkommastellen und **vergleiche** sie mit den abgelesenen Werten aus Teilaufgabe a).
Beurteile so deine eigene Genauigkeit.



Aufgabe 2

Entscheide anhand des Einheitskreises, welcher Wert plausibel ist.

- a) $\cos(45^\circ) \approx$ 0,1 -0,5 0,5 0,7
 b) $\sin(110^\circ) \approx$ -0,3 0,9 0,2 -0,5
 c) $\sin(245^\circ) \approx$ -0,1 0,8 -0,9 1
 d) $\cos(180^\circ) \approx$ 0,1 -0,5 0,5 -1
 e) $\cos(300^\circ) \approx$ -0,1 0,3 1 0,1
 f) $\sin(20^\circ) \approx$ 0,3 0,5 0,8 -0,2



Grafik: Diana Hauser

Aufgabe 3

Kreuze richtig oder falsch passend an.

	richtig	falsch
$\sin(30^\circ) = \sin(150^\circ)$		
$\sin(100^\circ) = \sin(360^\circ)$		
$\sin(110^\circ) = \sin(470^\circ)$		
$\sin(45^\circ) = -\sin(225^\circ)$		

	richtig	falsch
$\cos(50^\circ) = \cos(330^\circ)$		
$\cos(90^\circ) = \cos(180^\circ)$		
$\cos(180^\circ) = -\cos(360^\circ)$		
$\cos(45^\circ) = -\cos(225^\circ)$		

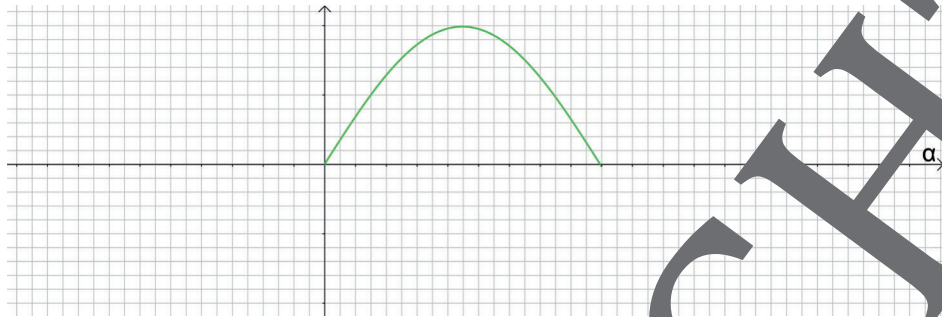


<https://learningapps.org/watch?v=ppnjo4evj22>




Aufgabe 4

a) **Beschrifte** die Achsen und **vervollständige** den Graphen der Sinusfunktion im Intervall $[-90^\circ; 360^\circ]$.



Grafik: Diana Hauser

b) **Beschrifte** die Achsen und **vervollständige** den Graphen der Kosinusfunktion im Intervall $[-180^\circ; 360^\circ]$.




Grafik: Diana Hauser

Aufgabe 5

Entscheide, ob die Aussagen richtig oder falsch sind.

	richtig	falsch
Die Sinusfunktion nimmt nur Werte zwischen -2 und 1 an.		
Der Graph der Sinusfunktion verläuft linear.		
Die Kosinusfunktion nimmt nur Werte zwischen -1 und 1 an.		
Die Sinusfunktion ist eine nach rechts verschobene Kosinusfunktion.		
Die Sinusfunktion ist achsensymmetrisch zur y -Achse.		
Die Kosinusfunktion hat die Nullstellen $\alpha = 0$ und $\alpha = 180^\circ$.		
Die Sinusfunktion ist punktsymmetrisch zum Ursprung.		
Die Kosinusfunktion ist eine nach oben verschobene Sinusfunktion.		
Die Sinusfunktion hat die Nullstellen $\alpha = 0$ und $\alpha = 180^\circ$.		
Die Kosinusfunktion ist achsensymmetrisch zur y -Achse.		
Die Kosinusfunktion ist punktsymmetrisch zum Ursprung.		
Der Graph der Sinusfunktion verläuft periodisch mit der Periode 360° .		



<https://learningapps.org/watch?v=ps1uj1qr522>

Sie wollen mehr für Ihr Fach? Bekommen Sie: Ganz einfach zum Download im RAABE Webshop.



Über 5.000 Unterrichtseinheiten
sofort zum Download verfügbar



Webinare und Videos
für Ihre fachliche und
persönliche Weiterbildung



Attraktive Vergünstigungen
für Referendar:innen mit
bis zu 15% Rabatt



Käuferschutz
mit Trusted Shops



Jetzt entdecken:
www.raabe.de