

I.J.46

Regionale Strukturanalysen

Der China-Taiwan-Konflikt

Dr. Henning Schöpke



© RAABE 2023

© Luis Diaz Devesa/Moment

Der Inselstaat Taiwan mit rund 23,6 Millionen Einwohnern liegt im Pazifischen Ozean etwa 160 Kilometer von der Südostküste des chinesischen Festlandes entfernt. Die Hauptstadt Taipeh hat knapp 2,7 Millionen Einwohner. Für China gehört die „strünige Provinz“ zum Staatsgebiet. Worum geht es im Konflikt um Taiwan? Warum ist der kleine Inselstaat für China so wichtig? Und welche Rolle spielt Taiwan für globale Wertschöpfungsketten und die Weltwirtschaft?

KOMPETENZ

Klassenstufe: Kl. 9/10

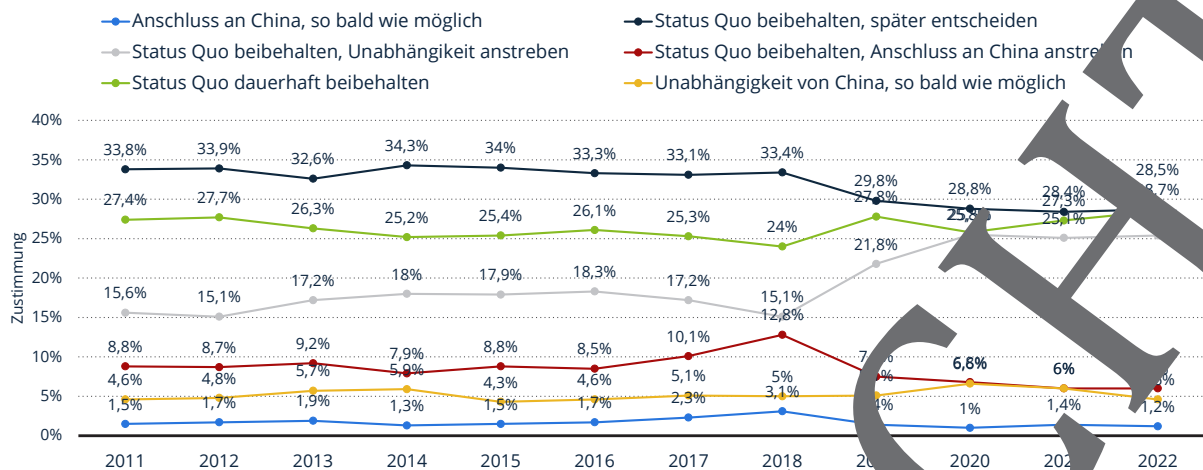
Dauer: 2 Unterrichtsstunden

Kompetenzen:
1. globale wirtschaftsräumliche Verflechtungen erläutern,
2. sach- und problemorientierte geografische Fragestellungen, Hypothesen und Lösungsstrategien erörtern und entwickeln,
3. zu geopolitischen Konflikten Stellung nehmen

Thematische Bereiche: Politische Spannungen, Ideologie, Bruttoinlandsprodukt, militärische und wirtschaftliche Stärke, technologischer Entwicklungsstand, globaler Handel, Wirtschaftssektoren

Unabhängigkeit von China – Umfrageergebnisse in Taiwan

M 1



Umfrage in Taiwan zur Unabhängigkeit von China von 2011 bis 2022


Grafik: Statista, Quelle: Election Study Center (National Chengchi University)

Aufgaben

1. Fasse die Einstellung der Bevölkerung Taiwans zur Eingliederung in China in eigenen Worten zusammen.
2. Nimm zu den Aussagen in der Umfrage Stellung.

Chinas Staatspräsident Xi Jinping – ein väterlicher Freund?

M 2



Aufgabe

Beschreibe die Bildelemente und interpretiere mit deinem Tischnachbarn die Karikatur. Tragt euer Ergebnis vor.



Spannungen zwischen der Volksrepublik China und Taiwan

M 4

Welche Folgen hätte eine Destabilisierung?

Mit Blick auf die Spannungen zwischen der Volksrepublik China und Taiwan äußerte Bundesaußenministerin Annalena Baerbock anlässlich ihres Besuches im April 2023 in China ihre Sorge. Eine Destabilisierung hätte große Folgen, warnte sie.

Laut SZ vom 14.04.2023 sagte Außenministerin Annalena Baerbock, Deutschland stehe zu seiner Ein-China-Politik, Konflikte dürften aber nur friedlich gelöst werden. Eine einseitige und erst recht gewaltsame Veränderung des Status quo „wäre für uns als Europäer nicht akzeptabel“. Die Reaktion der chinesischen Seite wird Annalena Baerbock antizipiert haben: Taiwan sei ein nicht abzuspaltender Teil Chinas und die Regierung werde die „volle Souveränität und territoriale Integrität“ des Landes verteidigen – Präsident Xi Jinping hatte klargestellt, dass er Gewalt nicht ausschließt, um Pekings Anspruch durchzusetzen.



Abbildung: samxmeg/E+

Im Umsatz-Ranking des **deutschen Außenhandels** rangiert Taiwan auf Platz 25. Auffällig dabei: Deutschland importiert deutlich mehr aus Taiwan, als es in das Fern-Land exportiert. Der Wert aller Ausfuhren summierte sich 2021 auf 9,3 Milliarden Euro. Die Einfuhren hatten einen Gesamtwert von 12,2 Milliarden Euro. Taiwan exportiert vor allem Maschinen und elektronische Bauteile nach Deutschland, während Deutschland vor allem mechanische Ausrüstung und hochwertige elektronische Produkte nach Taiwan exportiert. Ein Großteil aller Laptops weltweit und viele Computer-Chips stammen von taiwanesischen Unternehmen. Weitere wichtige Wirtschaftssektoren sind Chemikalien, Textilien, Maschinen sowie die Erdölaufbereitung.

Aufgaben

1. Chinas Außenminister reagiert auf Annalena Baerbocks Sorge, China könnte Taiwan angreifen und verwarnt gegen ausländische Einmischung in Taiwan. Informiere dich im Internet über den Ursprung des China-Taiwan-Konfliktes.
2. Begründe die Sorge der Bundesregierung, China könne den Druck auf Taiwan erhöhen und die Insel mit Festland-China vereinen – auch mit militärischen Mitteln. Nenne Folgen für die deutsche Wirtschaft.

M 5

China und Taiwan: militärische Stärke im Vergleich



Fotos von oben nach unten: Anton Petrus/Moment, Anton Petrus/Moment, Makoto/Watanabe/MIXA

Aufgaben

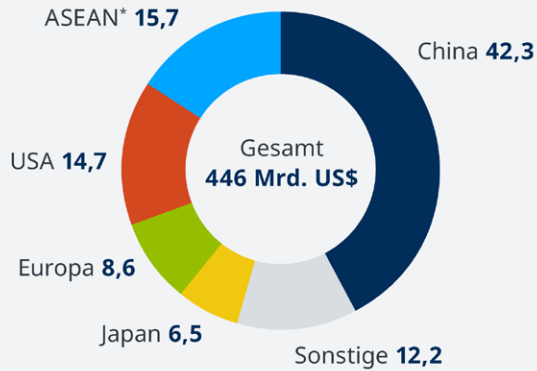
- Vergleiche die militärische Stärke Chinas und Taiwans und bewerte die Stärke der militärischen Kapazitäten Taiwans im Falle einer chinesischen Aggression.
- Fasse deine Einschätzung in einem Kernsatz zusammen.

Taiwans Exporte und Importe nach Ländern

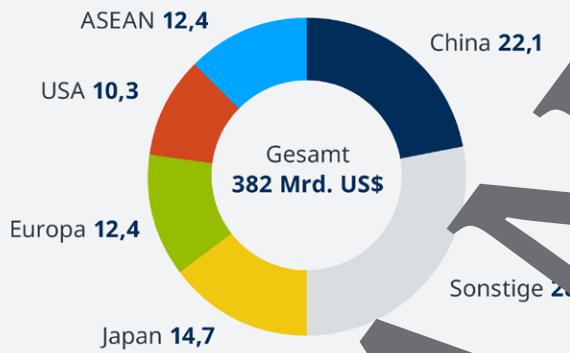
M 6

Taiwans Außenhandel

Exporte: Anteil nach Ländern 2021 in Prozent



Importe: Anteil nach Ländern 2021 in Prozent



Quelle: Handelsblatt (Statistikbehörde Taiwan)
*Verband Südostasiatischer Nationen

Grafik: DW, Quelle: Statistikbehörde Taiwan



Foto links: © 2011 Sharleen Chao/Moment, Foto rechts: Jung-Pang Wu/Moment

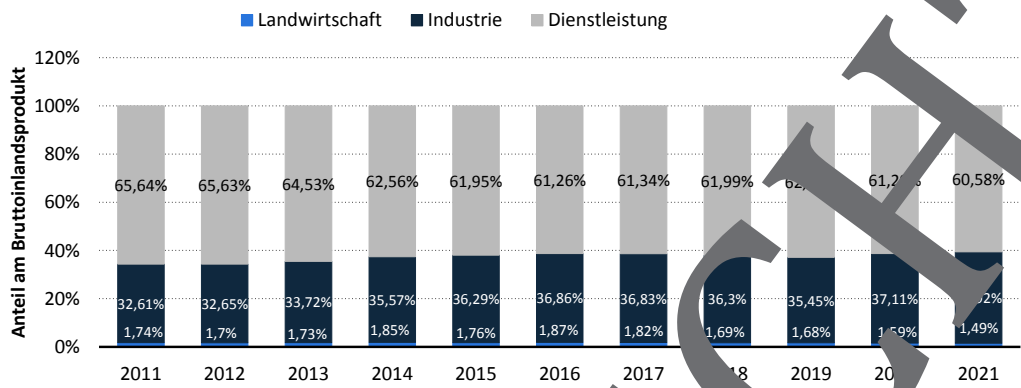
Aufgabe

Bewerte Taiwans Außenhandel aus der Perspektive einer Eingliederung Taiwans in China.


M 7



Taiwan: Anteile der Wirtschaftssektoren am Bruttoinlandsprodukt



Grafik: Statista, Quelle: Taiwan National Statistics



Fotos: oben links: PonyWang/E+, oben rechts: Morsa Images/DigitalVision, unten links: BING-JHEN HONG/iStock/Getty Images Plus, unten rechts: Sunrise@dawn Photography/Moment

Aufgabe 7
 Formuliere einen Zusammenhang der Exporte Taiwans und der Bedeutung der Wirtschaftssektoren.

Sie wollen mehr für Ihr Fach?

Bekommen Sie: Ganz einfach zum Download im RAABE Webshop.



✓ **Über 5.000 Unterrichtseinheiten**
sofort zum Download verfügbar

✓ **Webinare und Videos**
für Ihre fachliche und
persönliche Weiterbildung

✓ **Attraktive Vergünstigungen**
für Referendar:innen
mit bis zu 15% Rabatt

✓ **Käuferschutz**
mit Trusted Shops



Jetzt entdecken:
www.raabe.de